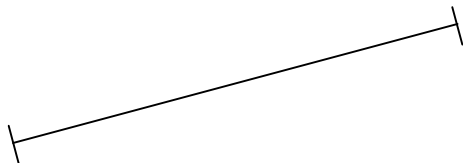
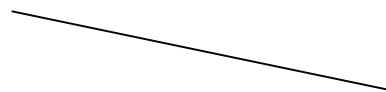


5) Construir um triângulo equilátero com um dos lados dados.



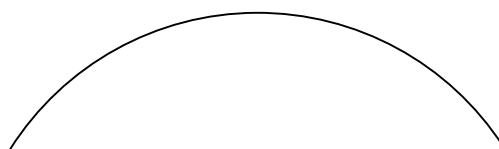
6) Construir um quadrado com um dos lados dados.



7) Construir um hexágono, dado o comprimento de um dos lados.



8) Achar o centro do arco.



IFSC			Diedro	
Professor		Data	Unid.	mm
Desenhista			Esc.	1:1